

МИНОБРНАУКИ РОССИИ
ФЕДЕРАЛЬНОЕ ГОСУДАРСТВЕННОЕ БЮДЖЕТНОЕ ОБРАЗОВАТЕЛЬНОЕ УЧРЕЖДЕНИЕ
ВЫСШЕГО ОБРАЗОВАНИЯ
«ВОРОНЕЖСКИЙ ГОСУДАРСТВЕННЫЙ УНИВЕРСИТЕТ»
БОРИСОГЛЕБСКИЙ ФИЛИАЛ
(БФ ФГБОУ ВО «ВГУ»)

УТВЕРЖДАЮ

председатель приёмной комиссии,
директор БФ ФГБОУ ВО «ВГУ»



М.Я. Пащенко

« 22 » сентября 20 17 г.

ПРОГРАММА
ВСТУПИТЕЛЬНЫХ ИСПЫТАНИЙ ПО ФИЗИКЕ
ДЛЯ АБИТУРИЕНТОВ ПРИ ПРИЕМЕ НА ОБУЧЕНИЕ
ПО ПРОГРАММАМ БАКАЛАВРИАТА

Программа разработана на основе ФГОС среднего общего образования.

СОДЕРЖАНИЕ ПРОГРАММЫ

1. Разделы и тематический план

МЕХАНИКА

Кинематика. Механическое движение. Относительность движения. Система отсчета. Материальная точка. Траектория. Путь и перемещение. Скорость. Ускорение.

Равномерное и равноускоренное прямолинейное движение. Свободное падение тел. Уравнение прямолинейного равноускоренного движения.

Криволинейное движение точки на примере движения по окружности с постоянной по модулю скоростью.

Центростремительное ускорение.

Основы динамики. Инерция. Первый закон Ньютона. Инерциальные системы отсчета.

Взаимодействие тел. Масса. Импульс. Второй закон Ньютона. Принцип суперпозиции сил. Принцип относительности Галилея.

Силы в природе. Сила тяготения. Закон всемирного тяготения. Вес тела. Невесомость. Первая космическая скорость. Искусственные спутники Земли. Сила упругости. Закон Гука. Сила трения. Закон трения скольжения.

Третий закон Ньютона.

Момент силы. Условие равновесия тел.

Законы сохранения в механике. Закон сохранения импульса Ракеты.

Механическая работа. Мощность. Кинетическая энергия. Потенциальная энергия. Закон сохранения энергии в механике. Простые механизмы. Коэффициент полезного действия механизма.

Механика жидкостей и газов. Давление. Атмосферное давление. Изменение атмосферного давления с высотой. Закон Паскаля для жидкостей и газов. Барометры и манометры. Сообщающиеся сосуды. Принцип устройства гидравлического пресса.

Архимедова сила для жидкостей и газов. Условия плавания тел на поверхности жидкости.

Измерение расстояний, промежутков времени, силы, объема, массы, атмосферного давления.

МОЛЕКУЛЯРНАЯ ФИЗИКА. ТЕРМОДИНАМИКА

Основы молекулярно-кинетической теории. Опытное обоснование основных положений молекулярно-кинетической теории. Броуновское движение. Диффузия. Масса и размер молекул. Измерение скорости молекул. Опыт Штерна. Количество вещества. Моль. Постоянная Авогадро. Взаимодействие молекул. Модели газа, жидкости и твердого тела.

Основы термодинамики. Тепловое равновесие. Теплопередача. Температура и ее измерение. Абсолютная температурная шкала. Внутренняя энергия. Количество теплоты. Теплоемкость вещества. Работа в термодинамике. Первый закон термодинамики. Изотермический, изохорный и изобарный процессы. Адиабатный процесс.

Необратимость тепловых процессов. Второй закон термодинамики и его статистическое истолкование. Преобразование энергии в тепловых двигателях. КПД теплового двигателя. Проблемы энергетики и охрана окружающей среды.

Идеальный газ. Связь между давлением и средней кинетической энергией

молекул идеального газа. Связь температуры со средней кинетической энергией частиц газа.

Уравнение Клапейрона-Менделеева. Универсальная газовая постоянная.

Жидкости и твердые тела. Испарение и конденсация. Насыщенные и ненасыщенные пары. Влажность воздуха. Кипение жидкости. Кристаллические и аморфные тела. Преобразование энергии при изменениях агрегатного состояния вещества.

Измерение давления газа, влажности воздуха, температуры, плотности вещества.

ОСНОВЫ ЭЛЕКТРОДИНАМИКИ

Электростатика. Электризация тел. Электрический заряд. Взаимодействие зарядов. Элементарный электрический заряд. Закон сохранения электрического заряда. Закон Кулона.

Электрическое поле. Напряженность электрического поля. Электрическое поле точечного заряда. Потенциальность электростатического поля. Разность потенциалов. Принцип суперпозиции полей.

Проводники в электрическом поле. Электрическая емкость. Конденсатор. Емкость плоского конденсатора. Диэлектрики в электрическом поле. Диэлектрическая проницаемость. Энергия электрического поля плоского конденсатора.

Постоянный электрический ток. Электрический ток. Сила тока. Напряжение. Носители свободных электрических зарядов в металлах, жидкостях и газах. Сопротивление проводников. Закон Ома для участка цепи. Последовательное и параллельное соединение проводников. Смешанное соединение проводников. Электродвижущая сила. Закон Ома для полной цепи. Внутреннее сопротивление источников тока. Работа и мощность тока. Закон Джоуля-Ленца.

Полупроводники. Собственная и примесная проводимость полупроводников, p-n- переход.

Магнитное поле, электромагнитная индукция. Взаимодействие магнитов. Взаимодействие проводников с током. Магнитное поле. Действие магнитного поля на электрические заряды. Индукция магнитного поля. Сила Ампера. Сила Лоренца. Магнитный поток. Электродвигатель.

Электромагнитная индукция. Закон электромагнитной индукции Фарадея. Правило Ленца. Вихревое электрическое поле. Самоиндукция. Индуктивность. Энергия магнитного поля.

Измерение силы тока, напряжения, сопротивления проводника.

КОЛЕБАНИЯ И ВОЛНЫ

Механические колебания и волны. Гармонические колебания. Амплитуда, период и частота колебаний. Свободные колебания. Математический маятник. Период колебаний математического маятника.

Превращение энергии при гармонических колебаниях. Вынужденные колебания. Резонанс. Понятие об автоколебаниях.

Механические волны. Скорость распространения волны. Длина волны. Поперечные и продольные волны. Уравнение гармонической волны.

Звук.

Электромагнитные колебания и волны. Колебательный контур. Свободные электромагнитные колебания в контуре. Превращение энергии в колебательном контуре. Собственная частота колебаний в контуре. Вынужденные электрические колебания. Переменный электрический ток. Генератор переменного тока. Действующее значение силы тока и напряжения. Активное, емкостное и индуктивное сопротивления. Резонанс в электрической цепи.

Трансформатор. Производство, передача и потребление электрической энергии.

Идеи теории Максвелла. Электромагнитные волны. Скорость распространения электромагнитных волн. Свойства электромагнитных волн. Принципы радиосвязи. Шкала электромагнитных волн. Различные виды электромагнитного излучения и их применение.

ОПТИКА

Свет - электромагнитная волна. Прямолинейное распространение, отражение и преломление света. Показатель преломления. Полное отражение. Предельный угол полного отражения. Ход лучей в призме. Построение изображений в плоском зеркале.

Собирающая и рассеивающая линзы. Формула тонкой линзы.

Построение изображений в линзах. Фотоаппарат. Глаз. Очки. Оптические приборы (лупа, микроскоп, телескоп). Интерференция света. Когерентность. Дифракция света. Дифракционная решетка. Поляризация света. Поперечность световых волн. Дисперсия света.

Измерение фокусного расстояния собирающей линзы, показателя преломления вещества, длины волны света.

ОСНОВЫ СПЕЦИАЛЬНОЙ ТЕОРИИ ОТНОСИТЕЛЬНОСТИ

Инвариантность скорости света. Принцип относительности Эйнштейна. Пространство и время в специальной теории относительности. Связь массы и энергии. Энергия покоя частицы.

КВАНТОВАЯ ФИЗИКА

Тепловое излучение. Гипотеза М.Планка о квантах. Постоянная Планка. Фотоэффект. Опыты Столетова. Уравнение Эйнштейна для фотоэффекта. Фотоны. Энергия и импульс фотонов.

Гипотеза Луи де Бройля. Дифракция электронов. Корпускулярно-волновой дуализм.

Физика атома. Планетарная модель атома. Боровская модель атома водорода. Постулаты Бора. Линейчатые спектры. Люминесценция. Лазеры.

Физика атомного ядра. Радиоактивность. Альфа-распад, бета-распад, гамма-излучение. Методы наблюдения и регистрации частиц в ядерной физике (газо-разрядный счетчик, камера Вильсона, пузырьковая камера).

Опыт Резерфорда по рассеянию α - частиц.

Закон радиоактивного распада. Нуклонная модель ядра. Заряд ядра. Массовое число ядра. Энергия связи частиц в ядре. Деление ядер. Синтез ядер. Ядерные реакции. Сохранение заряда и массового числа при ядерных реакциях. Выделение энергии при делении и синтезе ядер. Использование ядерной энергии. Дозиметрия.

Элементарные частицы. Фундаментальные взаимодействия.

2. Основные умения и навыки

Экзаменуемый должен знать/понимать:

– смысл понятий: физическое явление, физическая величина, модель, гипотеза, принцип, постулат, теория, пространство, время, инерциальная система отсчета, материальная точка, вещество, взаимодействие, идеальный газ, резонанс, электромагнитные колебания, электромагнитное поле, электромагнитная

- волна, атом, квант, фотон, атомное ядро, дефект массы, энергия связи, радиоактивность, ионизирующее излучение, планета, звезда, галактика, Вселенная;
- смысл физических величин: перемещение, скорость, ускорение, масса, сила, давление, импульс, работа, мощность, механическая энергия, момент силы, период, частота, амплитуда колебаний, длина волны, внутренняя энергия, средняя кинетическая энергия частиц вещества, абсолютная температура, количество теплоты, удельная теплоемкость, удельная теплота парообразования, удельная теплота плавления, удельная теплота сгорания, элементарный электрический заряд, напряженность электрического поля, разность потенциалов, электроемкость, энергия электрического поля, сила электрического тока, электрическое напряжение, электрическое сопротивление, электродвижущая сила, магнитный поток, индукция магнитного поля, индуктивность, энергия магнитного поля, показатель преломления, оптическая сила линзы;
 - смысл физических законов, принципов и постулатов (формулировка, границы применимости): законы динамики Ньютона, принципы суперпозиции и относительности, закон Паскаля, закон Архимеда, закон Гука, закон всемирного тяготения, законы сохранения энергии, импульса и электрического заряда, основное уравнение кинетической теории газов, уравнение состояния идеального газа, законы термодинамики, закон Кулона, закон Ома для полной цепи, закон Джоуля-Ленца, закон электромагнитной индукции, законы отражения и преломления света, постулаты специальной теории относительности, закон связи массы и энергии, законы фотоэффекта, постулаты Бора, закон радиоактивного распада;
 - вклад российских и зарубежных ученых, оказавших наибольшее влияние на развитие физики;
 - Уметь:
 - описывать и объяснять результаты наблюдений и экспериментов: независимость ускорения свободного падения от массы падающего тела; нагревание газа при его быстром сжатии и охлаждение при быстром расширении; повышение давления газа при его нагревании в закрытом сосуде; броуновское движение; электризация тел при их контакте; взаимодействие проводников с током; действие магнитного поля на проводник с током; зависимость сопротивления полупроводников от температуры и освещения; электромагнитная индукция; распространение электромагнитных волн; дисперсия, интерференция и дифракция света; излучение и поглощение света атомами, линейчатые спектры; фотоэффект; радиоактивность;
 - приводить примеры опытов, иллюстрирующих, что: наблюдения и эксперимент служат основой для выдвижения гипотез и построения научных теорий; эксперимент позволяет проверить истинность теоретических выводов; физическая теория дает возможность объяснять явления природы и научные факты; физическая теория позволяет предсказывать еще неизвестные явления и их особенности; при объяснении природных явлений используются физические модели; один и тот же природный объект или явление можно исследовать на основе использования разных моделей; законы физики и физические теории имеют свои определенные границы применимости;
 - описывать фундаментальные опыты, оказавшие существенное влияние на развитие физики;
 - применять полученные знания для решения физических задач;
 - определять: характер физического процесса по графику, таблице, формуле; продукты ядерных реакций на основе законов сохранения электрического заряда и массового числа;

– измерять: скорость, ускорение свободного падения; массу тела, плотность вещества, силу, работу, мощность, энергию, коэффициент трения скольжения, влажность воздуха, удельную теплоемкость вещества, удельную теплоту плавления льда, электрическое сопротивление, ЭДС и внутреннее сопротивление источника тока, показатель преломления вещества, оптическую силу линзы, длину световой волны; представлять результаты измерений с учетом их погрешностей;

– приводить примеры практического применения физических знаний: законов механики, термодинамики и электродинамики в энергетике; различных видов электромагнитных излучений для развития радио- и телекоммуникаций; квантовой физики в создании ядерной энергетики, лазеров;

– воспринимать и на основе полученных знаний самостоятельно оценивать информацию, содержащуюся в сообщениях СМИ, научно-популярных статьях; использовать новые информационные технологии для поиска, обработки и представления информации по физике в компьютерных базах данных и сетях (сети Интернет);

– использовать приобретенные знания и умения в практической деятельности и повседневной жизни для:

- обеспечения безопасности жизнедеятельности в процессе использования транспортных средств, бытовых электроприборов, средств радио- и телекоммуникационной связи;

- анализа и оценки влияния на организм человека и другие организмы загрязнения окружающей среды.

Вопросы к собеседованию

1. Относительность движения. Системы отсчета. Радиус-вектор, векторы перемещения, скорости, ускорения. Тангенциальное и нормальное ускорение. Угловое перемещение, скорость и ускорение. Связь линейных и угловых величин.

2. Законы Ньютона. Инерциальные системы отсчета. Силы в природе, фундаментальные взаимодействия.

3. Законы сохранения. Закон сохранения импульса, закон сохранения механической энергии.

4. Основные представления молекулярно-кинетической теории газов. Давление газов. Основное уравнение молекулярно-кинетической теории газов. Температура и ее измерение. Абсолютная температура. Идеальный газ.

5. Уравнение Менделеева-Клапейрона. Газовые законы.

6. Внутренняя энергия, и ее изменение при взаимодействии термодинамических систем. Работа и теплота как формы обмена энергией между системами.

7. Первое начало термодинамики. Применение первого начала термодинамики к изопроцессам.

8. Теплоемкость. Второе начало термодинамики. Обратимые и необратимые процессы. Тепловые машины. Идеальный цикл Карно.

9. Электрические заряды. Закон Кулона. Электрическое поле в вакууме. Работа сил электростатического поля. Потенциал. Эквипотенциальные поверхности и силовые линии.

10. Электростатическое поле при наличии проводников. Электростатическое поле при наличии диэлектриков. Проводники в электрическом поле. Электроёмкость.

11. Электрический ток. Закон Ома для однородного участка цепи. Сопротивление проводника. Сторонние силы. Электродвижущая сила. Источники тока. Закон Ома для полной цепи. Закон Джоуля-Ленца.

12. Сила Лоренца. Индукция магнитного поля. Взаимодействие токов. Сила Ампера.

13. опыты Фарадея. Магнитный поток. Закон электромагнитной индукции Фарадея и правило Ленца. Самоиндукция.

14. Скорость и ускорение при гармоническом колебании. Уравнение движения простейших механических систем без трения. Маятники. Параметры электромагнитных колебаний.

15. Собственная частота колебаний. Кинетическая, потенциальная и полная энергия колеблющегося тела. Затухающие колебания.

16. Волны. Виды волн. Скорость волны. Плоские и сферические волны.

17. Основы геометрической оптики, принцип Ферма, преломление и отражение света, полное внутреннее отражение.

18. Интерференция света. Когерентность. Методы получения когерентных источников света: опыт Юнга. Интерференция в тонких пленках.

19. Дифракция света. Дифракционная решетка как спектральный прибор.

20. Фотоэлектрический эффект; его экспериментальное исследование. Уравнение Эйнштейна. Фотоны.

21. Модель атома водорода Бора-Резерфорда. опыты Резерфорда. Состав ядра. Нуклоны. заряд и массовое число ядра. Энергия связи ядра. Изотопы.

Пример контрольно-измерительного материала (собеседование)

1. Относительность движения. Системы отсчета. Радиус-вектор, векторы перемещения, скорости, ускорения. Угловая скорость. Связь линейных и угловых величин.

2. Задача.

Прямолинейный проводник длиной 0,5 м, по которому течет ток 6 А, находится в однородном магнитном поле. Модуль вектора магнитной индукции 0,2 Тл, проводник расположен под углом 30° к вектору B . Определить силу Ампера, действующую на проводник со стороны магнитного поля.

Критерии оценки устных ответов абитуриентов

75 - 100 баллов, в том случае, если абитуриент:

- обнаруживает полное понимание физической сущности рассматриваемых явлений и закономерностей, знание законов и теорий, умеет подтвердить их конкретными примерами, применить в новой ситуации и при выполнении практических заданий.

- дает точное определение и истолкование основных понятий, законов, теорий, а также правильное определение физических величин, их единиц и способов измерения.

- технически грамотно выполняет физические опыты, чертежи, схемы и графики, сопутствующие ответу, правильно записывает формулы, пользуясь принятой системой условных обозначений.

- при ответе не повторяет дословно текст учебника, а умеет отобрать главное, обнаруживает самостоятельность и аргументированность суждений, умеет установить связь между изучаемым и ранее изученным материалом по курсу физики, а также с материалом, усвоенным при изучении других смежных предметов.

- умеет делать анализ, обобщения и собственные выводы по заданному вопросу.

60 - 74 балла в том случае, если ответ удовлетворяет названным выше требованиям, но абитуриент:

Допускает одну негрубую ошибку или не более двух недочетов и может их исправить самостоятельно, или при небольшой помощи преподавателя.

40 - 59 баллов в том случае, если абитуриент правильно понимает физическую сущность рассматриваемых явлений и закономерностей, но при ответе:

- обнаруживает отдельные пробелы в усвоении существенных вопросов курса физики, не препятствующие дальнейшему усвоению программного материала.

- испытывает затруднения в применении знаний, необходимых для решения задач различных типов, при объяснении конкретных физических явлений на основе теорий и законов, или в подтверждении конкретных примеров практического применения теорий.

- отвечает неполно на вопросы, или воспроизводит содержание текста учебника, но недостаточно понимает отдельные положения, имеющие важное значение.

- обнаруживает недостаточное понимание отдельных положений при воспроизведении текста учебника, или отвечает неполно на вопросы преподавателя, допуская одну-две грубые ошибки.

39 и менее баллов в том случае, если абитуриент:

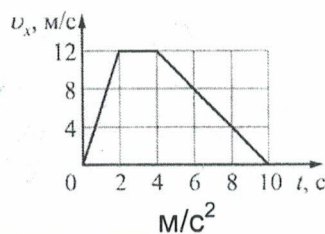
- не знает и не понимает значительную или основную часть программного материала в пределах поставленных вопросов.

- имеет слабо сформированные и неполные знания и не умеет применять их к решению конкретных вопросов и задач по образцу и к проведению опытов.

- при ответе (на один вопрос) допускает более двух грубых ошибок, которые не может исправить даже при помощи преподавателя

Пример контрольно-измерительного материала (письменный экзамен)

1. На рисунке показан график зависимости от времени для проекции v_x скорости тела. Какова проекция a_x ускорения этого тела в интервале времени от 0 до 2 с?



Ответ: _____ м/с^2

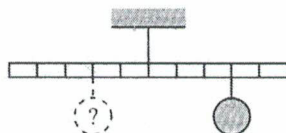
2. Определить коэффициент трения скольжения если сила трения 12 Н, модуль силы нормального давления 24 Н.

Ответ: _____

3. У основания гладкой наклонной плоскости шайба массой 10 г обладает кинетической энергией 0,04 Дж. Определите максимальную высоту, на которую шайба может подняться по плоскости относительно основания. Сопротивлением воздуха пренебречь.

Ответ: _____ м.

4. Тело массой 2 кг. подвешено к правому плечу невесомого рычага (см.рисунок). Груз какой массы надо подвесить ко второму делению левого плеча рычага для достижения равновесия?



Ответ: _____ кг.

5. Брусок соскальзывает с наклонной плоскости, образующей с горизонтом угол $\alpha = 30^\circ$. Каково ускорение бруска, если коэффициент трения его о поверхность плоскости $\mu = 0,4$?

Ответ: _____ м/с²

6. В результате перехода спутника Земли с одной круговой орбиты на другую скорость его движения уменьшается. Как изменяются при этом центростремительное ускорение спутника и период его обращения вокруг Земли?

Для каждой величины определите соответствующий характер изменения:

- 1) увеличивается
- 2) уменьшается
- 3) не изменяется

Запишите в таблицу выбранные цифры для каждой физической величины. Цифры в ответе могут повторяться.

Центростремительное ускорение спутника	Период обращения спутника вокруг Земли

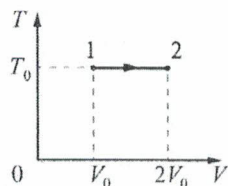
7. При бросании мяча вертикально вверх мальчик сообщает ему скорость в 1.5 раза большую, чем девочка. Во сколько раз выше поднимется мяч, брошенный мальчиком?

Ответ: _____

8. При увеличении абсолютной температуры средняя кинетическая энергия хаотического теплового движения молекул разреженного одноатомного газа увеличилась в 2 раза. Начальная температура газа 250 К. Какова конечная температура газа?

Ответ: _____ К.

9. На TV-диаграмме показан процесс изменения состояния идеального одноатомного газа. Газ получил количество теплоты, равное 50 кДж. Какую работу совершил газ в этом процессе, если его масса не меняется?



Ответ: _____ кДж.

10. Газ занимает объем 2 л при 273°C . Каков будет его объем при 546°C и прежнем давлении?

Ответ: _____ м^3

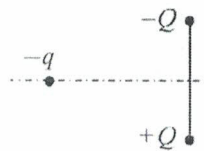
11. Рассчитайте количество теплоты, необходимое для плавления льда, находящегося при 0°C массой 1 кг. ($\lambda=330$ кДж/кг).

Ответ: _____ Дж

12. Рассчитайте КПД тепловой машины при температуре нагревателя 500 К, а холодильника – 300 К.

Ответ: _____

13. Отрицательный заряд $-q$ находится в поле двух неподвижных зарядов: положительного $+Q$ и отрицательного $-Q$ (см. рисунок). Куда направлено относительно рисунка (**вправо, влево, вверх, вниз, к наблюдателю, от наблюдателя**) ускорение заряда $-q$ в этот момент времени, если на него действуют только заряды $+Q$ и $-Q$? Ответ запишите словом (словами).



Ответ: _____

14. Плавкий предохранитель счетчика электроэнергии в квартирной сети напряжением 220 В снабжен надписью: «6А». Какова максимальная суммарная мощность электрических приборов, которые можно одновременно включить в сеть, чтобы предохранитель не расплавился?

Ответ: _____ Вт.

15. Проволочная рамка площадью $2 \cdot 10^{-3} \text{ м}^2$ вращается в однородном магнитном поле вокруг оси, перпендикулярной вектору магнитной индукции. Магнитный поток, пронизывающий площадь рамки, изменяется по закону $\Phi=4 \cdot 10^{-6} \cos 10\pi t$, где все величины выражены в СИ. Чему равен модуль магнитной индукции?

Ответ: _____ мТл.

16. Рассчитайте количество теплоты, выделяемое в резисторе (10 Ом) за 2 минуты при силе тока 5 А.

Ответ: _____ Дж

17. Небольшой предмет расположен на главной оптической оси тонкой собирающей линзы между фокусным и двойным расстоянием от нее. Предмет начинают приближать к фокусу линзы. Как меняются при этом размер изображения и оптическая сила линзы?

Для каждой величины определите соответствующий характер ее изменения:

- 1) увеличивается
- 2) уменьшается

3) не изменяется

Запишите в таблицу выбранные цифры для каждой физической величины. Цифры в ответе могут повторяться.

Размер изображения	Оптическая сила линзы

18. Рассчитайте величину силы Лоренца, которая действует на электрон, движущийся со скоростью 500 м/с в магнитном поле с индукцией 0,5 Тл. Определите радиус окружности, по которой движется частица.

Ответ: _____ м

19. В результате цепной реакции деления уровня ${}^1_0n + {}^{235}_{92}\text{U} \rightarrow {}^A_Z\text{X} + {}^{139}_{56}\text{Ba} + 3 {}^1_0n$ образуется ядро химического элемента ${}^A_Z\text{X}$. Каковы заряд образовавшегося ядра Z (в единицах элементарного заряда) и его массовое число A?

Заряд ядра Z	Массовое число ядра A


20. Период T полураспада изотопа калия ${}^{38}_{19}\text{K}$ равен 7,6 мин. Изначально в образце содержалось 2,4 мг этого изотопа. Сколько этого изотопа останется в образце через 7,6 мин.

Ответ: _____ мг.

21. Два точечных, положительных заряда по $2,5 \cdot 10^{-8}$ Кл, помещены на расстоянии 5 см друг от друга. Определить напряженность поля в точке, находящейся посередине между зарядами.

Ответ: _____ В/м

22. Определите показания амперметра (см. рисунок), если погрешность прямого измерения силы тока равна цене деления амперметра.



Ответ: (_____ \pm _____) А.

23. Необходимо собрать экспериментальную установку, с помощью которой можно определить коэффициент трения скольжения стали по дереву. Для этого школьник взял стальной брусок с крючком. Какие два предмета из приведенного ниже перечня оборудования необходимо дополнительно использовать для проведения этого эксперимента?

- 1) деревянная рейка
- 2) динамометр
- 3) мензурка
- 4) пластмассовая рейка
- 5) секундомер

В ответ запишите номера выбранных предметов.

Ответ:

--	--

24. Рассмотрите таблицу, содержащую сведения о ярких звездах.

Наименование звезды	Температура, К	Масса (в массах Солнца)	Радиус (в радиусах Солнца)	Расстояние до звезды (св.год)
Альдебаран	3500	5	45	68
Альтаир	8000	1,7	1,7	360
Бетельгейзе	3100	20	900	650
Вега	10600	3	3	27
Капелла	5200	3	2,5	45
Кастор	10400	3	2,5	45
Процион	6900	1,5	2	11
Спика	16800	15	7	160

Выберите два утверждения, которые соответствуют характеристикам звезд.

- 1) Температура поверхности и радиус Бетельгейзе говорят о том, что эта звезда относится к красным сверхгигантам.
- 2) Температура на поверхности Проциона в 2 раза ниже, чем на поверхности Солнца.
- 3) Звезды Кастор и Капелла находятся на одинаковом расстоянии о Земли и, следовательно, относятся к одному созвездию.
- 4) Звезда Вега относится к белым звездам спектрального класса А.
- 5) Так как массы звезд Вега и Капелла одинаковы, то они относятся к одному и тому же спектральному классу.

Ответ:

--	--

25. Снаряд массой в 2 кг, летящий со скоростью 200 м/с, разрывается на два осколка. Первый осколок массой 1 кг летит под углом 180° к первоначальному направлению со скоростью 100 м/с. Найдите скорость второго осколка.

Ответ: _____ м/с.

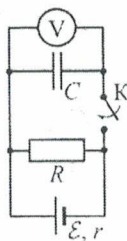
26. При сжатии идеального одноатомного газа при постоянной температуре внешние силы совершили работу 2000 Дж. Какое количество теплоты было передано при этом газом окружающим телам?

Ответ: _____ Дж.

27. На горизонтальном дне водоема глубиной 1.2 м лежит плоское зеркало. На каком расстоянии от места вхождения луча в воду этот луч снова выйдет на поверхность воды после отражения от зеркала? Угол падения луча 30° .

Ответ: _____ м

28. Опираясь на законы физики, найдите показание идеального вольтметра в схеме, представленной на рисунке, до замыкания ключа К и опишите изменения его показаний после замыкания ключа К. Первоначально конденсатор не заряжен.



29. В последнюю секунду свободного падения тело прошло путь вдвое больший, чем в предыдущую секунду. С какой высоты h падало тело? Запишите краткое решение.

Ответ: _____ м

30. В баллоне вместимостью 1 л находится кислород под давлением 10^7 Па и температуре $T_1=300$ К. К газу подводят количество теплоты 8,35 кДж. Определите температуру газа после нагревания. Запишите краткое решение.

Ответ: _____ К

31. При силе тока 3 А во внешней батарее выделяется мощность 18 Вт, а при силе тока 1 А – мощность 10 Вт. Определить ЭДС и внутреннее сопротивление батареи. Запишите краткое решение.

Ответ: _____ В

32. Расстояние между свечой и экраном 3.75 м. Между ними помещается собирающая линза, которая дает на экране резкое изображение свечи при двух положениях линзы. Определите фокусное расстояние линзы, если расстояние между указанными положениями линзы 0.75 м. Запишите краткое решение.

Ответ: _____ м

Время выполнения работы на письменном экзамене – 235 минут.

Критерии оценки письменных работ абитуриентов

Задания 1–27

За правильный ответ на каждое из заданий 1–5, 7–16, 18, 20–22, 25–27 ставится по 2 балла. Эти задания считаются выполненными верно, если правильно указаны требуемое число или слово.

Каждое из заданий 6, 17, 19, 23, 24 оценивается в 4 балла, если верно указаны оба элемента ответа; в 2 балла, если допущена одна ошибка; в 0 баллов, если оба элемента указаны неверно. Если указано более двух элементов (в том числе, возможно, и правильные) или ответ отсутствует, – 0 баллов.

Решения задания 28 (с развёрнутым ответом) оцениваются комиссией. Задания считаются выполненными верно, если правильно указаны требуемое выражение, верно описана физическая ситуация. За выполнение задания в зависимости от полноты и правильности данного учащимся ответа выставляется от 0 до 4 баллов.

Решения заданий 29–32 (с развёрнутым ответом) оцениваются комиссией. Задания считаются выполненными верно, если правильно указаны требуемое вы-

ражение (число), верно описана физическая ситуация, верно приведен ход решения. За выполнение каждого задания в зависимости от полноты и правильности данного учащимся ответа выставляется от 0 до 8 баллов.

Список рекомендуемой литературы

1. Болсун А.И. Физика в экзаменационных вопросах и ответах : Для абитуриентов, репетиторов и учителей / А.И. Болсун, Б.К. Галякевич — 3-е изд. — М.: Айрис-пресс, 2003 .— 414с.

2. Гендейштейн Л.Э. Физика. 10 класс. В 3 ч. Ч 1: учебник для учащихся общеобразовательных организаций (базовый и углублённый уровни) / Л.Э. Гендейштейн, Ю.И. Дик; под. ред. В.А. Орлова. — 2-е изд., стер. — М.: Мнемозина, 2015. — 304 с.

3. Гендейштейн Л.Э. Физика. 11 класс. В 2 ч. Ч 1: учебник для учащихся общеобразовательных организаций (базовый и углублённый уровни) / Л.Э. Гендейштейн, Ю.И. Дик; под. ред. В.А. Орлова. — 2-е изд., стер. — М.: Мнемозина, 2015. — 348 с.

4. Гендейштейн Л.Э. Физика. 11 класс. В 2 ч. Ч 2: задачник для учащихся общеобразовательных организаций (базовый и углублённый уровни) / Л.Э. Гендейштейн, А.В. Кошкина, Г.И. Левиев. — 2-е изд., стер. — М.: Мнемозина, 2015. — 111 с.

5. Гендейштейн Л.Э. Физика. 11 класс. В 3 ч. Ч 2: задачник для учащихся общеобразовательных организаций (базовый и углублённый уровни) / Л.Э. Гендейштейн, Ю.И. Дик; под. ред. В.А. Орлова. — 2-е изд., стер. — М.: Мнемозина, 2015. — 238 с.

6. Мякишев Г.Я. Физика. : 11 класс: учеб. общеобразоват. организаций / Г.Я. Мякишев, Б.Б. Буховцев, В.М. Чаругин; под ред. Н.А. Парфентьевой.— 3-е изд. — М.: Просвещение, 2016 .— 432с.

7. Мякишев Г.Я. Физика. 10 класс: учеб. для общеобразоват. организаций: базовый уровень / Г.Я.Мякишев, Б.Б.Буховцев, Н.Н.Сотский; под ред. Н.А. Парфентьевой.— 2-е изд. — М.: Просвещение, 2016 .— 416 с.

8. Пурышева Н.С. Физика. 10 кл. Базовый уровень: учебник / Н.С. Пурышева, Н.Е. Важеевская, Д.А. Исаев; под ред. Н.С. Пурышева. — 3-е изд., стереотип. — М.: Дрофа, 2015. — 271 с.

9. Пурышева Н.С. Физика. 10 кл. Базовый уровень: учебник / Н.С. Пурышева, Н.Е. Важеевская, Д.А. Исаев, В.М. Чаругин. — 2-е изд., стереотип. —М.: Дрофа, 2015. — 303 с.

10. Резницкий Э.Л. Физика. Задачник-репетитор. 10-11 классы: пособ. для уч-ся общеобразов. учрежд.: в 3 ч. Ч.2 / Э.Л. Резницкий .— М.: Просвещение, 2012.

11. Физика 10 класс: учеб. для общеобразоват. организаций: углуб. уровень/ [О.Ф. Кабардин, В.А. Орлов, Э.Е. Эвенчик и др.]; под ред. А.А. Пинского, О.Ф. Кабардина. —М.: Просвещение, 2014. — 416 с.

Составитель программы вступительных испытаний по физике:

кандидат физико-математических наук,
доцент, декан факультета физико-математического
и естественно-научного образования



С.Е. Зюзин